

Ad-Soyad:..... Sınıf/Şube: No:

1. Ülkemizde yer şekillerinin engebeli olduğu yerlerde genellikle nüfus yoğunluğu azdır.



Haritada verilen yerlerden hangisinde nüfus yoğunluğunun az olmasının nedeni yer şekillerinin engebeli olması değildir?

- A) I B) II C) III D) IV

2. • 30 - 40 derece enlemleri arasında görülür.
• Yazları sıcak ve kurak, kışları ise ılık ve yağışlıdır.
• Kırsal alanlarda yapı malzemesi olarak genellikle taş kullanılır.

Verilen bilgiler aşağıdaki iklimlerden hangisine aittir?

- A) Çöl B) Muson C) Akdeniz D) Kutup

3. Bor madeni rezervi bakımında ülkemiz dünyada birincidir.



Bu madenin ülkemizde en fazla bulunduğu yer kaç numara ile gösterilmiştir?

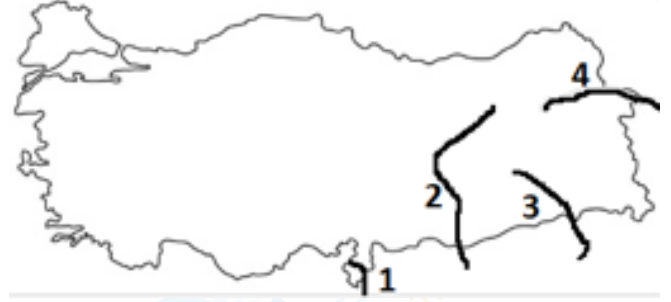
- A) Yalnız I B) Yalnız II C) I ve II D) II ve IV

4. Asya kıtasının güneyi ve güneydoğusundaki Hindistan, Bangladeş, Japonya, Çin gibi ülkelerde yazın okyanus üzerinden gelen rüzgarlar, bölgede aşırı yağışlara neden olmaktadır. Yağışların fazla olması pirinç üretimini kolaylaştırmaktadır. Kışın ise kurak bir dönem yaşanır.

Verilen iklim türü aşağıdakilerden hangisidir?

- A) Ekvatorial B) Kutup C) Muson D) Akdeniz

5. Akarsularımızdan bazıları ülkemizden kaynağını alıp, sınırlarımız dışına çıkarken, bazıları ise kaynağını dışardan alıp ülkemiz sınırları içine girdikten sonra denize ulaşmaktadır.



Yukarıda verilen akarsuları benzer özelliklerine göre gruplandığımızda hangisi dışarıda kalır?

- A) 1 B) 2 C) 3 D) 4

6. Seçeneklerde kutup iklimiyle ilgili verilen bilgilerden hangisi yanlıştır?

- A) Ulaşım köpeklerin çektiği kızaklarla sağlanır.
B) Temel geçim kaynaklarından biri tarımdır.
C) Yıl boyu toprak örtüsü kar ve buzla kaplıdır.
D) Ana besin kaynaklarından biri balıktır.

- 7.



Haritada işaretlenen yerlerin hangisinde bulunan kentlerin kurulması ve gelişmesinde madencilik önemlidir?

- A) Yalnız I B) Yalnız III C) I ve II D) II ve IV

8. Sosyal Bilimler hayatımızın her anında karşımıza çıkar. Bulduğumuz yerin doğa koşullarını öğrenmek için ...I..., toplumsal yapı ve değer yargılarını öğrenmek için ...II..., kültürel özellikleri öğrenmek içinIII....., geçmişte yaşanan olayları öğrenmek için ...IV..... biliminden faydalanırız.

Numaralı yerlere sırasıyla hangileri gelmelidir?

	<u>I</u>	<u>II</u>	<u>III</u>	<u>IV</u>
A)	Tarih	Sosyoloji	Coğrafya	Etnografya
B)	Coğrafya	Sosyoloji	Etnografya	Tarih
C)	Coğrafya	Etnografya	Sosyoloji	Tarih
D)	Etnografya	Tarih	Sosyoloji	Coğrafya

9. Bir doğal afet sonrasında olayın travmasından kurtulamayan insanlara yardım ederek, insanları tekrar ruh sağlığına kavuşturmaya çalışan bir kişi sosyal bilimlerin hangi dalıyla ilgileniyordur?

A) Sosyoloji B) Antropoloji C) Coğrafya D) Psikoloji

10. • Paralar ile madalyonların üstünde yer alan yazı ve resimlerin bilimsel açıdan değerlendirmesini yapan bilim dalıdır.
• Farklı toplumları ve kültürleri karşılaştırmalı şekilde inceleyen ve insanların toplumsal ve kültürel davranışları hakkında genellemeler yapan bilim dalıdır.
• Geçmişten günümüze meydana gelen olay ve olguların zamanını tespit ederek sıralayan bilim dalıdır.

Verilen bilgiler, aşağıdaki bilim dallarıyla eşleştirildiğinde hangisi dışarıda kalır?

A) Tarih B) Kronoloji C) Nüvizmatik D) Antropoloji

11. “Sosyal Bilgiler dersinde yaşadığımız çevreyi ve dünyayı tanıyoruz. Tarihimizin sayfalarında geziniyor, etkin bir vatandaş olma becerileri kazanıyoruz. Bize bu bilgi ve becerileri kazandırangibi bilimler Sosyal Bilimler olarak adlandırılmaktadır.”

Bu açıklamada boş bırakılan yere aşağıdaki bilim dallarından hangisini getiremeyiz?

A) Antropoloji B) Sosyoloji C) Psikoloji D) Biyoloji

12. Sümerler tarafından tekerleğin icadıyla başlayan taşımacılığın kolaylaşması, atlı arabalara ardından motorlu araçlara doğru giden bir süreç izlemiştir. Şimdilerde taşımacılık hem havadan hem karadan hem de denizden yapılmaktadır. Hatta günümüzde uzaktan kumanda edilebilen araçlar yükleme-indirme işlemleri yapmaktadır.

Yukarıda yer alan taşımacılığın geçirdiği süreçte aşağıdaki yargılardan hangisine ulaşılır?

- A) Taşımacılık sektörü pahalalmıştır.
B) Taşınabilen ürün sayısı artmıştır.
C) Taşımacılık sektörü sürekli gelişmiştir.
D) Taşımacılık sektörü kolaylaşmıştır.

13. Bilimsel araştırmalar ilerledikçe sürekli geliştirilen yöntemlerle enerji verimliliği artmaktadır. Buna ek olarak daha önce kullanılmayan güneş, rüzgar ve dalga gibi farklı enerji kaynaklarından da yararlanılmaya başlanmıştır.






Enerji konusunda üretim alanlarının çeşitlenmesinin nedeni aşağıdakilerden hangisidir?

- A) Enerji ihtiyacı sürekli artmaktadır.
B) Fosil yakıt kaynakları pahalalmaktadır.
C) Fosil yakıt kaynakları azalmaktadır.
D) Enerji kısıtlılığı yaşanmaktadır.





















14. Problemlere ya da sorunlara güvenilir çözümler arama amacıyla planlı ve sistemli olarak verilerin toplanması, çözümlenmesi yani analizi, yorumlanarak değerlendirilmesi ve rapor haline getirilmesi sürecinedenir.

Yukarıdaki tanımlamanın doğru olabilmesi için, boş bırakılan yere aşağıdakilerden hangisi yazılmalıdır?

- A) Deney
B) Gözlem
C) Veri
D) Bilimsel araştırma

15.		Konuyla ilgili kaynak taraması yapmak ve mevcut bilgi birikimini derlemek
		İlgi ve yeteneğe göre konuyu belirlemek
		Rapor oluşturmak
		Süreyi belirlemek
		Problemi ortaya koymak

Sosyal Bilgiler dersinde, bilimsel araştırma basamaklarını kullanarak araştırma yapmak isteyen bir öğrenci hangi sıralamayı takip etmelidir?

- A)     
- B)     
- C)     
- D)     

16. • Buluş sahibinin ürününü belirli bir süre üretebilme, satabilme veya ithal edebilme hakkına denir.
- Bir kişinin kendi fikri emeği ile meydana getirdiği ürünler üzerindeki hukuki haklarıdır. Bu hak sayesinde ortaya konan eser, ancak sahibinin izniyle kullanılabilir ve yayılabilir.
- Her türlü ticaret malına konulabilen, o malla ilgili stok, fiyat gibi bilgileri içeren, değişen genişlikte çubuklar biçiminde, elektronik tarayıcıyla okunabilen simgedir.

Verilen tanımlar eşleştirildiğinde aşağıdakilerden hangisi boşta kalmaktadır?

- A) Patent Hakkı
B) Telif Hakkı
C) Bandrol
D) Barkod

17. Bilimsel araştırma basamaklarını kullanarak hazırladığım ödevimi öğretmenime teslim ettim. Öğretmenim ödevimi kontrol ettikten sonra bana; "Buraya yazdığın tüm bilgi ve fikirlerin sana mı ait? Bu kadar donanımlı bir öğrencim olduğu için çok mutlu oldum." deyip, başımı okşayarak gülümsedi. O an nerede hata yaptığımı anlamıştım ama yapacak bir şey yoktu. Ben de öğretmenime gülümseyerek eşlik ettim.
- Yukarıdaki açıklamalara göre, öğrenci arkadaşımız nerede hata yapmıştır?**

- A) Yararlandığı kaynakları yazmayı unutmuştur.
B) Belirlenen süre içinde ödevini teslim etmemiştir.
C) Problemi ortaya koymadan araştırma yapmıştır.
D) İlgi ve yeteneğine göre konu belirlememiştir.

18. Ülkemizde 5846 sayılı Fikir ve Sanat Eserleri Kanununun amacı fikir ve sanat eserlerini meydana getiren eser sahiplerinin ürünleri üzerindeki manevi ve mali haklarını belirlemek, korumak, bu ürünlerden yararlanma şartlarını düzenlemek, öngörülen esas ve usullere aykırı yararlanma halinde yaptırımları tespit etmektir.

Buna göre

I- Fikir ve eser sahipleri yasayla korunmuştur.

II- Eserlerden serbestçe yararlanma hakkı getirilmiştir.

III- Eserlerin korunması için yaptırım uygulanması kararlaştırılmıştır.

yargılarından hangilerine ulaşılabilir?

- A) Yalnız I B) I ve II C) I ve III D) I, II ve III

19. Telif hakkı, kişinin her türlü fikri emeği ile meydana getirdiği ürünler üzerindeki hukuki haklarıdır.
- Aşağıdakilerden hangisi telif hakkı ile ilgili yanlış bir bilgidir?**

- A) Telif hakkı saklı olan ürünler yasal yollardan temin edilmelidir.
B) Ortaya konan eser, ancak sahibinin izniyle kullanılabilir ve yayılabilir.
C) Telif hakkı sembolü © (daire içinde "C" harfi) şeklindedir.
D) Telif hakkı koruma süresi, eser sahibi yaşadığı süreyle sınırlıdır.

20. Fikir ve Sanat Eserleri Kanunu'nun bazı maddeleri:

Madde 8 :Bir eserin sahibi, onu meydana getirendir.
Madde 15 :Eseri, sahibinin adı veya müstear (takma ad) adı ile yahut adsız olarak yayımlama hususunda karar vermek hakkı sadece eser sahibine aittir.

Madde 16 :Eser sahibinin izni olmadıkça eserde veyahut eser sahibinin adında kısaltmalar, ekleme ve başka değiştirmeler yapılamaz.

Madde 23 :Bir eserin aslını veya çoğaltılmış nüshalarını kiralamak, ödünç vermek, satışa çıkarmak veya diğer yollarla dağıtmak hakkı sadece eser sahibine aittir.

Piyasadaki kitapların fotokopilerini çekip, bu kitaplara satan kırtasiyeciler Maliye ekipleri tarafından iş üstünde yakalandı. Savunmasında "Ben suç işlemedim, kitaplar çok pahalı, halka hizmet için çoğaltıp ucuza satıyordum" dedi.

Söz konusu kırtasiyeciler, Fikir ve Sanat Eserleri Kanunu'nun hangi maddesini ihlal etmiştir?

- A) Madde 8 B) Madde 15 C) Madde 16 D) Madde 23

21. **İnternet Haberi**

İstanbul'da Güvenlik Şube Müdürlüğü Fikri Mülkiyet Suçları Büro Amirliği tarafından yapılan operasyonda piyasa değeri yaklaşık 1,5 milyon TL olan 31 bin adet korsan kitap ele geçirildi. Ele geçirilen korsan kitapların imha edileceği bildirildi.

İnternet haberinde konusu geçen uygulamanın temel amacı aşağıdakilerden hangisidir?

- A) Eser sahibine kaynak sağlamak
B) Korsan üreticilerin haklarını korumak
C) Fikir ve sanat eserlerini çoğaltmak
D) Eser sahiplerinin hakkını korumak

22. Ülkemizde jeotermal kaynaklar, nerelerde kullanılmaktadır?

Sorusuna hangi seçenekte verilen yanıt yanlıştır?

- A) Elektrik enerjisi üretiminde
B) Kaplıca olarak sağlık alanında
C) Konutların ısıtılmasında
D) Tarımda sulamada

23. Tabloda ham madde kaynaklarına bağlı olarak kurulan fabrikalar ile kuruldukları bölgeler gösterilmek istenmiştir.

Zeytinyağı	Güneydoğu Anadolu Bölgesi
Mobilya	Karadeniz Bölgesi
Un fabrikası	İç Anadolu Bölgesi
Petrol Rafinerisi	Ege Bölgesi

Tabloda hangi fabrikaların yeri değiştirilirse hata düzeltilmiş olur?

- A) Zeytinyağı-Petrol Rafinerisi
B) Mobilya- Zeytinyağı
C) Un Fabrikası-Petrol Rafinerisi
D) Mobilya- Un fabrikası

24. Toprak---Pamuk---İplik Fabrikası---.....---Giyim Mağazası

Anlam bütünlüğünü sağlamak için yukarıdaki boşluğa hangisi getirilmelidir?

- A) Tekstil sanayii
B) Deri sanayii
C) Ayakkabı sanayii
D) Yağ fabrikası

- 25.



Haritada verilen noktalarda ham maddesi başka yerden getirilen bir sanayi kolu gelişmiştir.

Bu sanayi kolu aşağıdakilerden hangisidir?

- A) Makarna
B) Demir-çelik
C) Mobilya
D) Otomotiv

Test bitti. Cevaplarınızı kontrol ediniz.